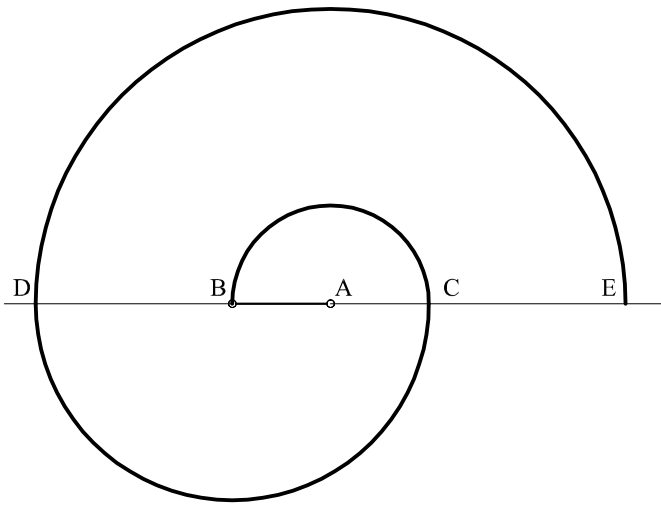
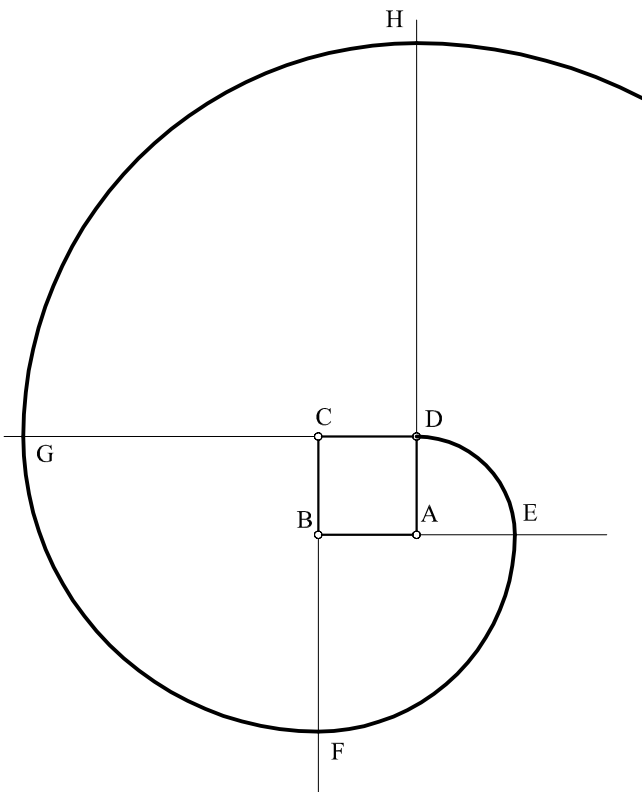


1.-DIBUJAR UNA ESPIRAL DEXTROGIRA A PARTIR DEL SEGMENTO AB.



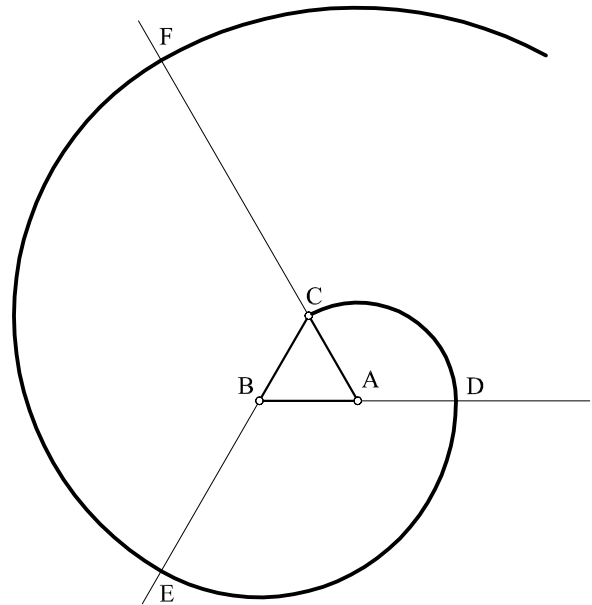
- 1.-SE DIBUJA LA RECTA AB.
- 2.-CON CENTRO EN A Y RADIO HASTA B SE DIBUJA UN ARCO DE 180° HASTA OBTENER EL PUNTO C.(SENTIDO HORARIO)
- 3.-CON CENTRO EN B Y RADIO HASTA C SE DIBUJA OTRO ARCO DE 180° HASTA OBTENER EL PUNTO D.
- 4.-CON CENTRO EN A Y RADIO HASTA D SE DIBUJA.....

3.-DIBUJAR UNA ESPIRAL DEXTROGIRA A PARTIR DEL CUADRADO ABCD.



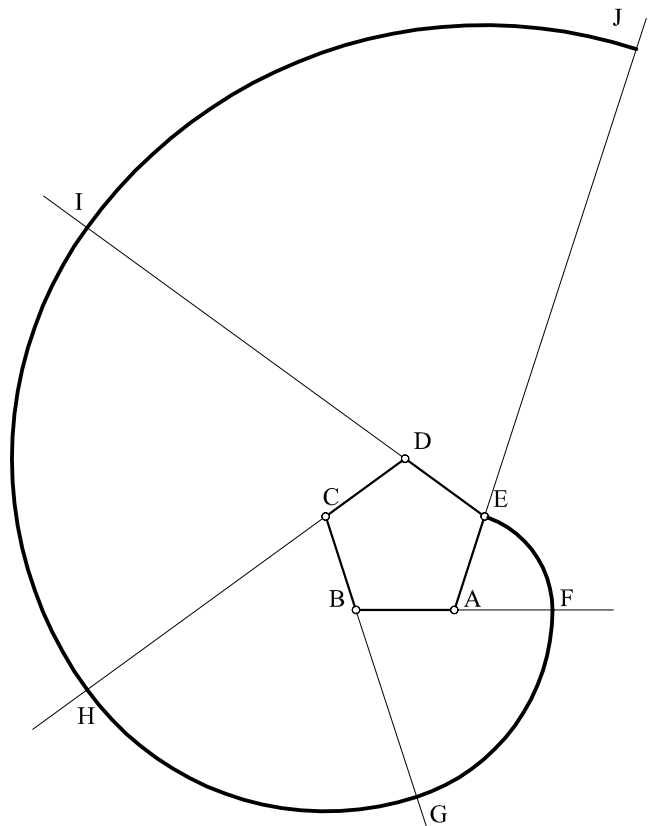
- 1.-SE DIBUJAN LAS RECTAS BA, CB, DC Y AD Y SE PROLONGAN.
- 2.-CON CENTRO EN A Y RADIO HASTA D SE DIBUJA UN ARCO HASTA HASTA OBTENER EL PUNTO E.(SENTIDO HORARIO)
- 3.-CON CENTRO EN B Y RADIO HASTA E SE DIBUJA OTRO ARCO HASTA HASTA OBTENER EL PUNTO F.
- 4.-CON CENTRO EN C Y RADIO HASTA F SE DIBUJA.....

2.-DIBUJAR UNA ESPIRAL DEXTROGIRA A PARTIR DEL TRIANGULO ABC.



- 1.-SE DIBUJAN LAS RECTAS BA, CB, AC Y SE PROLONGAN.
- 2.-CON CENTRO EN A Y RADIO HASTA C SE DIBUJA UN ARCO HASTA HASTA OBTENER EL PUNTO D.(SENTIDO HORARIO)
- 3.-CON CENTRO EN B Y RADIO HASTA D SE DIBUJA OTRO ARCO HASTA HASTA OBTENER EL PUNTO E.
- 4.-CON CENTRO EN C Y RADIO HASTA E SE DIBUJA.....

4.-DIBUJAR UNA ESPIRAL DEXTROGIRA A PARTIR DEL PENTAGONO ABCDE.



- 1.-SE DIBUJAN LAS RECTAS BA, CB, DC, ED Y AE Y SE PROLONGAN.
- 2.-CON CENTRO EN A Y RADIO HASTA E SE DIBUJA UN ARCO HASTA HASTA OBTENER EL PUNTO F.(SENTIDO HORARIO)
- 3.-CON CENTRO EN B Y RADIO HASTA F SE DIBUJA OTRO ARCO HASTA HASTA OBTENER EL PUNTO G.
- 4.-CON CENTRO EN C Y RADIO HASTA G SE DIBUJA.....