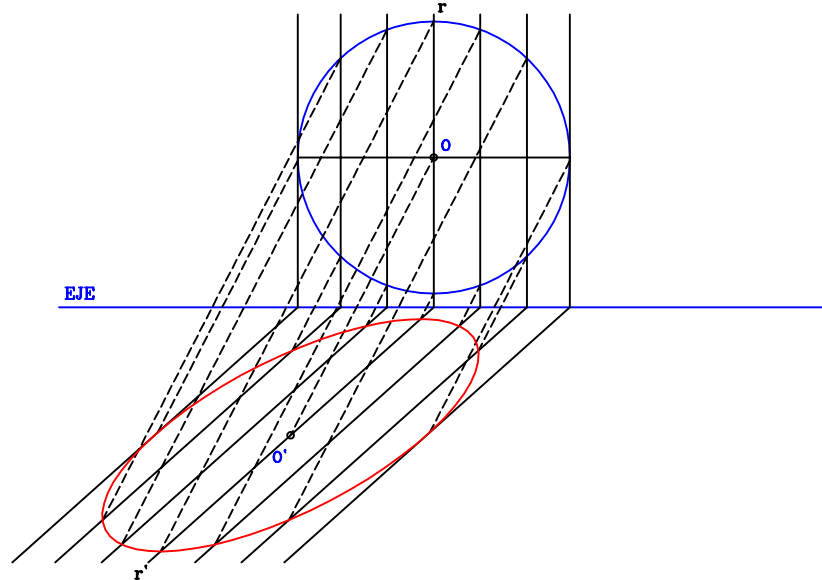
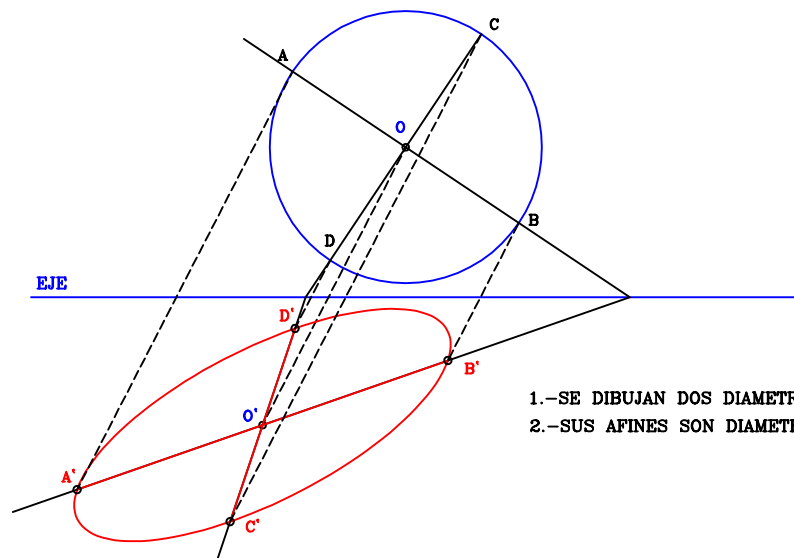


DETERMINAR POR PUNTOS LA ELIPSE AFIN DE LA CIRCUNFERENCIA DADA.

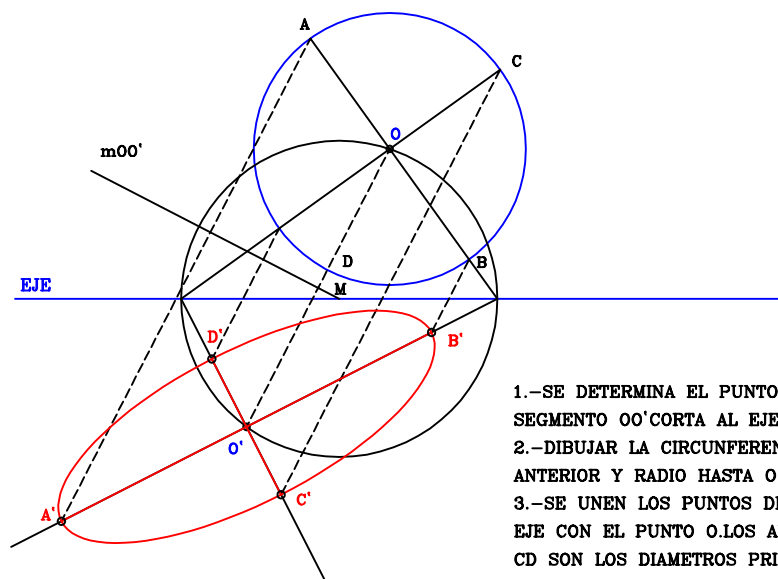


OBTENER UN PAR DE DIAMETROS CONJUGADOS DE LA ELIPSE AFIN A LA CIRCUNFERENCIA.



- 1.-SE DIBUJAN DOS DIAMETROS PERPENDICULARES
- 2.-SUS AFINES SON DIAMETROS CONJUGADOS DE LA ELIPSE

OBTENER LOS DIAMETROS PRINCIPALES DE LA ELIPSE AFIN A LA CIRCUNFERENCIA.



- 1.-SE DETERMINA EL PUNTO DONDE LA MEDIATRIZ DEL SEGMENTO OO' CORTA AL EJE
- 2.-DIBUJAR LA CIRCUNFERENCIA CON CENTRO EN EL PUNTO ANTERIOR Y RADIO HASTA O Y O'
- 3.-SE UNEN LOS PUNTOS DE CORTE DE CIRCUNFERENCIA Y EJE CON EL PUNTO O. LOS DIAMETROS AB Y CD SON LOS DIAMETROS PRINCIPALES